

CISD Grade 2 Math Unit 15 SPANISH

Some questions (c) 2012 by CSCOPE.

- 1 Había 22 estudiantes en el salón de clases. Algunos estudiantes fueron al laboratorio de computación. Ahora hay 7 estudiantes en el salón de clases. ¿Cuántos estudiantes fueron al laboratorio de computación?
- A 13 estudiantes
- B 15 estudiantes
- C 29 estudiantes
- 2 La clase de la Sra. Hernandez está estudiando acerca de los animales. Quieren saber qué tan rápido pueden correr los animales. Usa la tabla de abajo para contestar la siguiente pregunta.

Animal	Velocidad
León	50 MPH
Pollo	9 MPH
Elefante	25 MPH
Conejo	35 MPH

¿Cuán más rápido puede correr un elefante que un pollo?

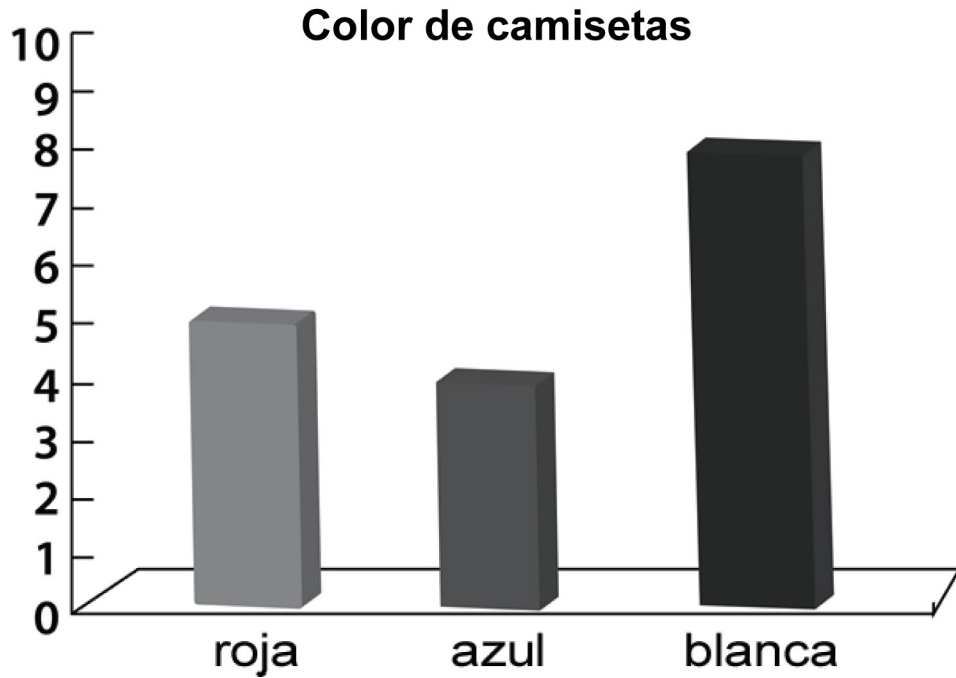
- F 16 mph
- G 19 mph
- H 34 mph

- 3** En septiembre, Mark hizo 37 saltos de tijera en la clase de educación física. En enero, Mark hizo 10 más que en septiembre. ¿Cuántos saltos de tijera hizo Mark en enero?



- A** 27 saltos de tijera
- B** 47 saltos de tijera
- C** 54 saltos de tijera
-
- 4** Daniel y su familia recogieron manzanas para vender en un puesto de frutas. Recogieron 18 manzanas rojas y 25 manzanas verdes. ¿Cuántas manzanas rojas y verdes recogieron?
- F** 7 manzanas
- G** 38 manzanas
- H** 43 manzanas




- 5 La siguiente gráfica de barras muestra el número de colores de camisetas que hay en la clase de la Sra. Crayón. ¿De cuál color de camiseta hay más?



- A blanca
- B azul
- C roja



Canasta de frutas

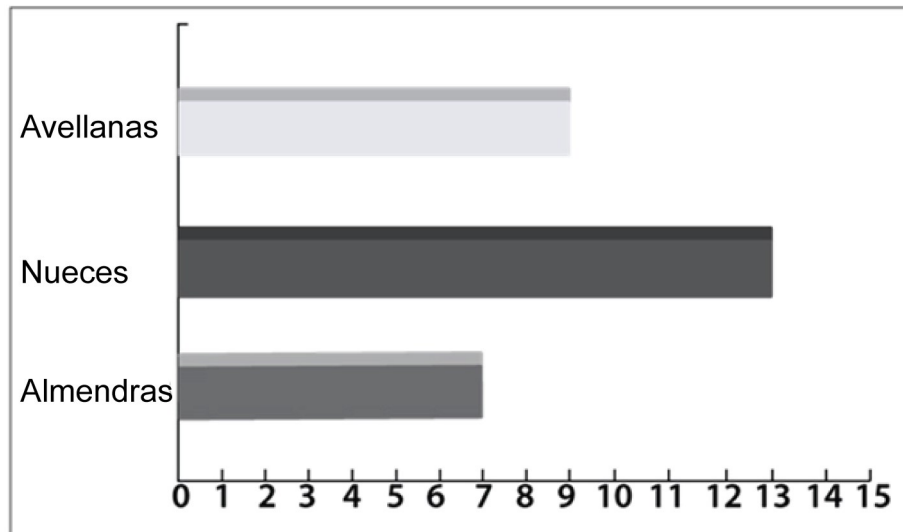
Manzanas	
Naranjas	
Plátanos	

Usando la pictografía de arriba, determina cuántos plátanos más que naranjas hay en la canasta de frutas

- F** 1 plátano
- G** 3 plátanos
- H** 4 plátanos

7 La gráfica de barras representa el número de frutos secos que hay en el tazón.

Nueces en tazón

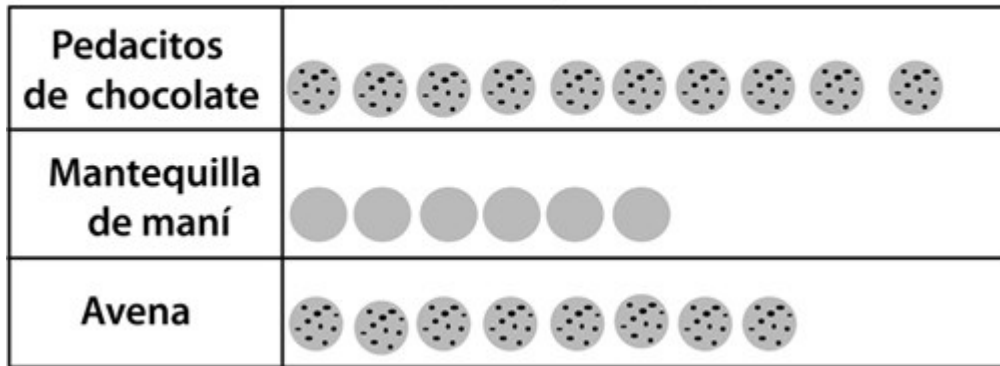


Usa la gráfica de barras para determinar cuántas nueces más que almendras hay en el tazón.

- A** 4 nueces
- B** 6 nueces
- C** 20 nueces

8

Galletas que hay en un plato



La pictografía muestra la cantidad de galletas que hay en el plato. ¿Cuántas galletas hay en el plato?

- F** 14 galletas
- G** 18 galletas
- H** 24 galletas

9 A la familia Taylor le encanta las montañas rusas. Estos cuatro estados tienen el mayor número de montañas rusas en los Estados Unidos.

Estado	Número de montañas rusas
California	38
Texas	35
Ohio	32
New Jersey	30

¿Cuántas montañas rusas tienen Texas y California juntos?

- A** 63 montañas rusas
- B** 73 montañas rusas
- C** 3 montañas rusas

- 10** La Escuela Primaria Kennedy está llevando a cabo un concurso de lectura. Kelly leyó 45 páginas y Thomas leyó 36 páginas. ¿Cuántas páginas más leyó Kelly que Thomas?

Explica cómo determinaste tu respuesta.

--	--