

CISD Grade 3 Math Unit 11 SPANISH

Some questions (c) 2013 by TEKS Resource System.

1 Aproximadamente, ¿cuánto pesa la muñeca?




- A 20 metros
- B 21 litros
- C 23 gramos
- D 25 kilogramos

2 ¿Cuál de los siguientes objetos tiene la mayor masa?

F



G



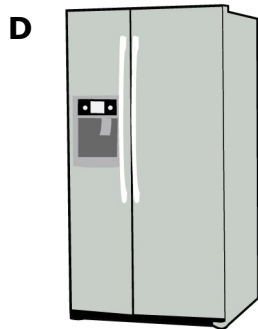

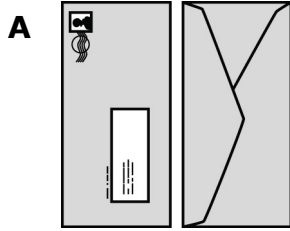
H



J



3 ¿Cuál de las siguientes respuestas es la más pesada?



4 ¿Cuál de las siguientes respuestas pesa más que una libra?


F Un dulce

G Una tachuela


H Un estudiante

J Un lápiz

- 5 El Sr. Smith cría caballos. Es conocido por tener algunos de los caballos más hermosos. ¿Cuál unidad mediría mejor el peso de un caballo?



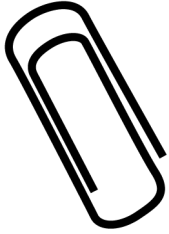
- A Pulgadas
  - B Libras
  - C Galones
  - D Onzas
- 6 Susan va a comprar 2 plátanos. ¿Cuál de los siguientes instrumentos usaría para medir el peso de los plátanos?



- F Escala
- G Regla
- H Regla de una yarda
- J Reloj

7 ¿Cuál de los siguientes objetos pesa más de 1 gramo?


A




B



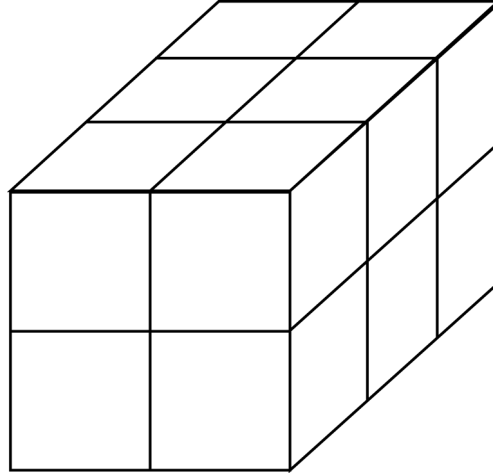
C



D



8 Observa la siguiente figura.



¿Cuántas pulgadas cúbicas equivalen al volumen de la figura? Cada cubo equivale a una pulgada.

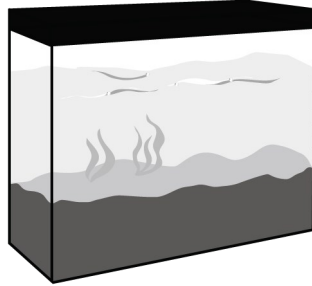
- F** 4 pulgadas cúbicas
  - G** 8 pulgadas cúbicas
  - H** 12 pulgadas cúbicas
  - J** 16 pulgadas cúbicas
- 9 John se bebió una lata de refresco. ¿Cuál medida sería la MEJOR estimación de la cantidad de refresco que bebió John?



- A** 12 tazas
- B** 12 galones
- C** 12 onzas
- D** 12 cuartos de galón



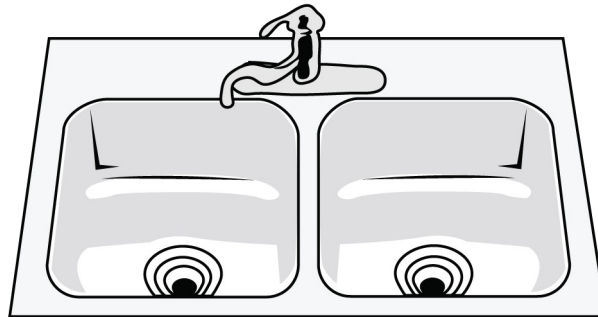
**10** Patrick quiere llenar con agua su acuario de 50 galones.



¿Cuál de las siguientes medidas sería MEJOR usar y requeriría la menor cantidad de trabajo?

- F** Una taza
- G** Una pinta
- H** Un cuarto de galón
- J** Una libra

**11** Observa el siguiente dibujo.

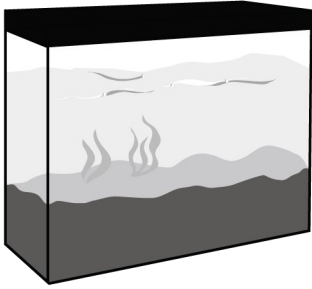


¿Qué oración es VERDADERA acerca de la capacidad de agua que le puede caber a los fregaderos?

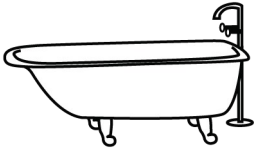
- A** A los fregaderos les caben más de un litro de agua.
- B** A los fregaderos les caben menos de un litro de agua.
- C** A los fregaderos les caben lo mismo que un litro de agua.
- D** A los fregaderos les caben aproximadamente 20 mililitros de agua.

**12** ¿A cuál recipiente le pueden caber aproximadamente 2,000 galones de agua?

**F**



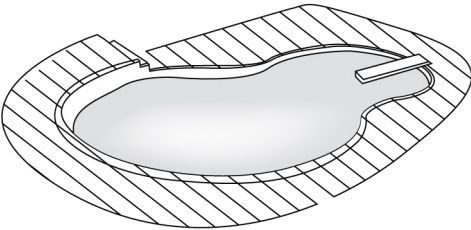
**G**



**H**



**J**



**13** Observa el objeto.



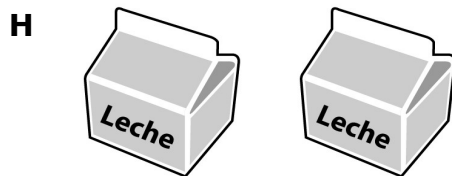

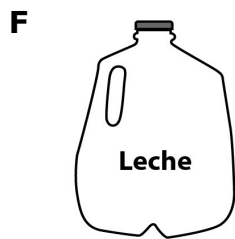
¿Cuál de las siguientes unidades se usaría para medir la cantidad de medicina que le cabe a la cuchara?

- A** Centímetros
- B** Mililitro
- C** Miligramos
- D** Kilolitro

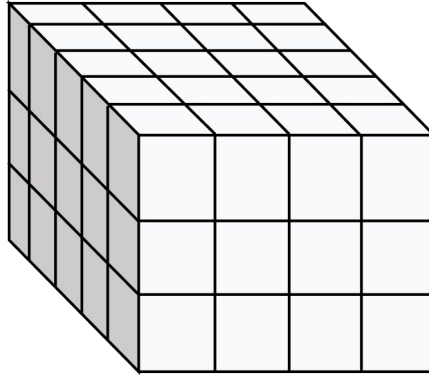
- 14** El Sr. Sánchez se bebió cuatro tazas de café el lunes y cuatro tazas de café el martes.



¿Cuál de los siguientes dibujos es la misma cantidad de café que se bebió el Sr. Sánchez en los dos días?



**15** ¿Cuál es el volumen de este prisma rectangular en pulgadas cúbicas?



Record your answer and fill in the bubbles on your answer document. Be sure to use the correct place value.

---

--	--