

CISD Grado 4 Estudios Sociales Unidad 05

Some questions (c) 2012 by CSCOPE.

**1** ¿Por qué muchos estadounidenses pensaron que podían mudarse al área conocida como Texas después de que México obtuvo su independencia de España?

- A** México creó una dictadura militar.
- B** México creó un gobierno democrático con una constitución.
- C** México creó un gobierno exactamente igual que el gobierno de Estados Unidos.
- D** México les prometió a los estadounidenses que podrían establecer su propia nación en Texas.

**2** • Gran extensión de tierra  
• Área de misiones  
• Algunas regiones controladas por España  
¿Cuál respuesta describe a Texas en el momento de la Guerra de Independencia en México?

- F** Gran extensión de tierra
- G** Algunas misiones establecidas
- H** Pocos colonos
- J** Todas las anteriores

**3** Angélica nació en Texas. Sus padres también nacieron en Texas, pero sus abuelos nacieron en México. ¿Cuál término describe la cultura de Angélica?

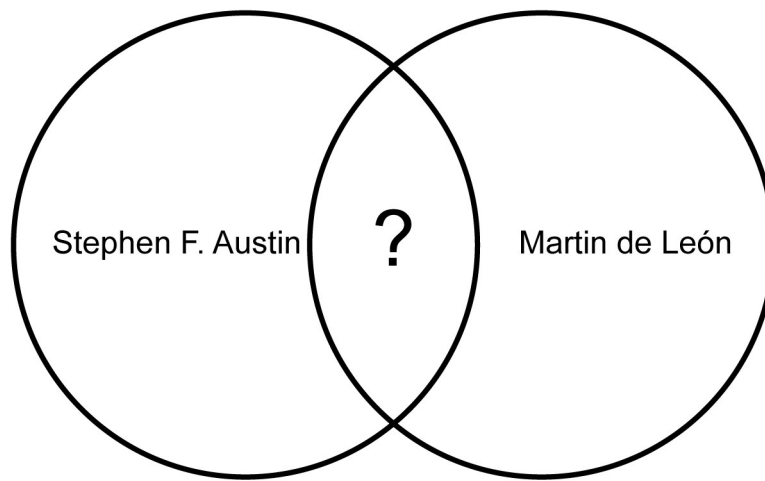
- A** Texana
- B** Mestiza
- C** Nativa
- D** Angla

**4** ¿Cuál de estas respuestas fue un requisito de los colonos norteamericanos que vinieron a Texas?

- F** Practicar la religión católica
- G** Obedecer las leyes mexicanas
- H** Pagar impuestos
- J** Todas las anteriores

**5** Imagina un lugar en donde viven muy pocas personas. Gradualmente más y más personas escuchan sobre el lugar y empiezan a mudarse ahí. Proviene de muchos países y culturas distintos. Podrías esperar que hubiera todos estos cambios en este lugar, EXCEPTO —

- A** formación de comunidades y pueblos
- B** nuevas oportunidades de liderazgo para las personas
- C** disminución de la población
- D** diferencias culturales entre las personas



**6** ¿Cuál de las siguientes respuestas completa la sección que tiene un ? en el diagrama de arriba?

- F** Crearon misiones
- G** Empresarios
- H** Colonos norteamericanos
- J** Líderes militares coloniales

**7** ¿Cuál de las siguientes respuestas debe ir en la sección rotulada Martín de León?

- A** Trajo 200 familias mexicanas a Texas.
- B** Trajo 300 familias estadounidenses a Texas.
- C** Exploró el río Grande para España.
- D** Construyó fuertes durante la era de las misiones.

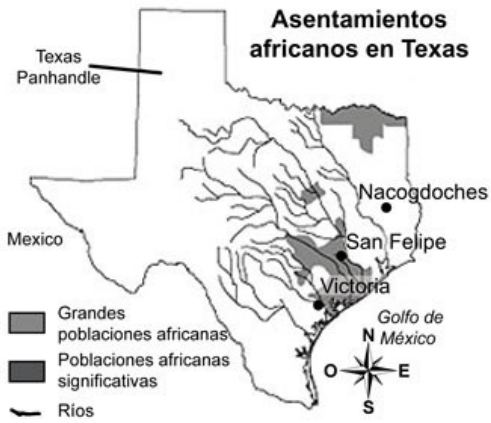
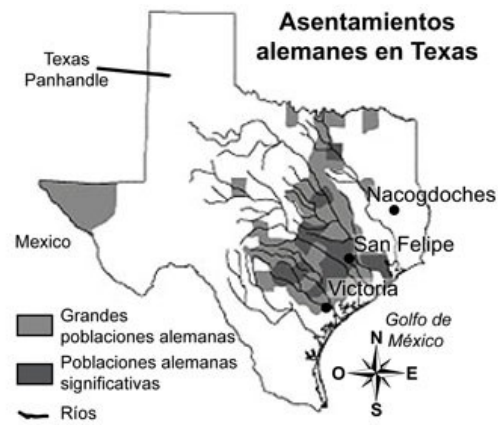
**8** ¿Cuál respuesta debe ir en la sección rotulada Stephen F. Austin del diagrama?

- F** Monarca de Texas
- G** Texano
- H** Padre de Texas
- J** Sacerdote católico



Usa el dibujo de arriba y tus conocimientos de la etapa colonial de Texas para contestar las siguientes dos preguntas:

- 9** El dibujo muestra una de las maneras en que los colonos norteamericanos se ganaban la vida en la etapa colonial de Texas. ¿Qué se muestra en este dibujo?
- A** Agricultura
  - B** Ganadería
  - C** Cría de ovejas
  - D** Guiar nuevos colonos al área
- 10** Si esta familia vive en las afueras de un pueblo, ¿qué negocios pequeños necesitaría la familia para satisfacer las necesidades que no pueden satisfacer por sí mismos? Haz una lista de por lo menos tres negocios pequeños que son apropiados para esta época.

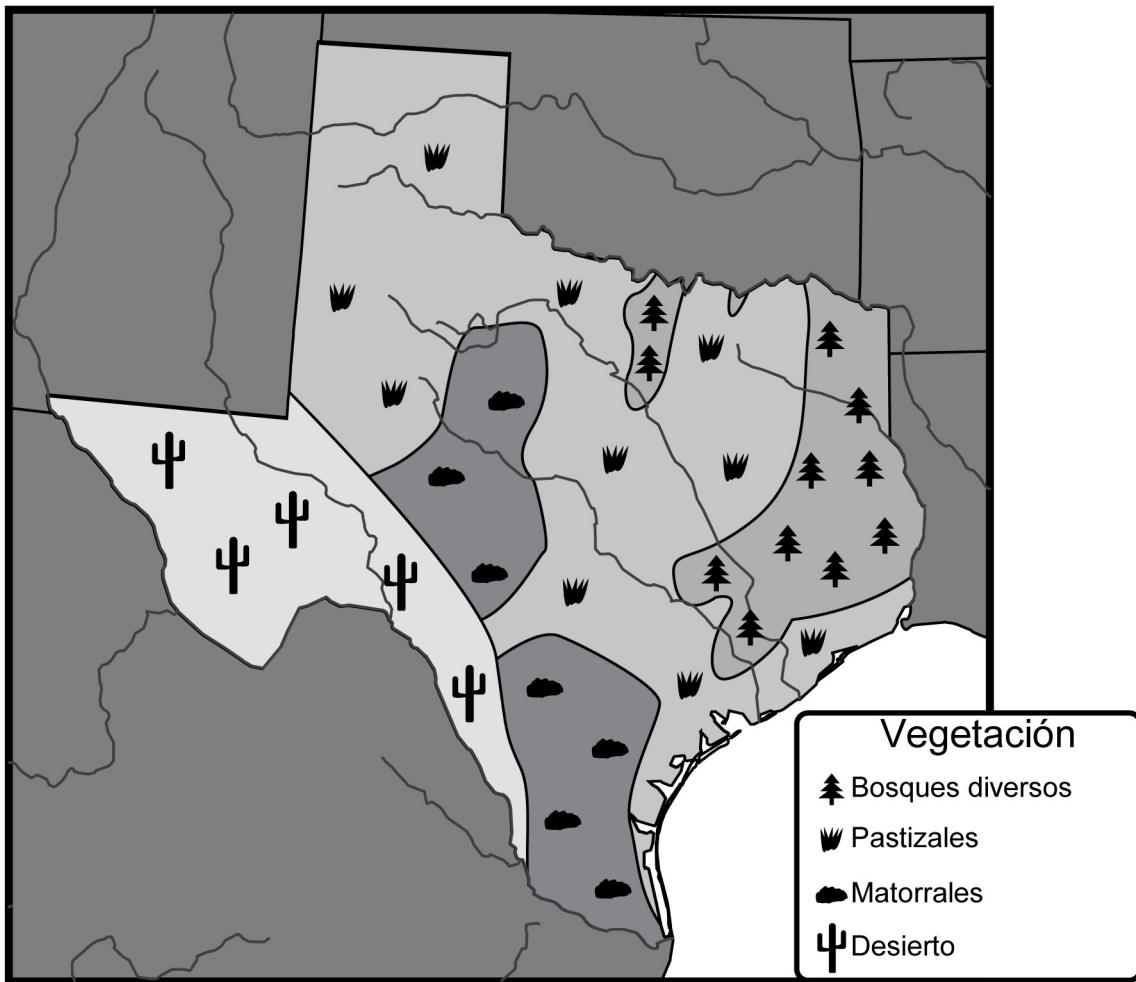


- 11** ¿Cuál de estas respuestas esperarías que fuera diferente en un asentamiento alemán que en un asentamiento texano?
- A** Tradiciones
  - B** Días festivos
  - C** Alimentos
  - D** Todas las anteriores

- 12** ¿Cuál de estas respuestas sobre los asentamientos alemanes en Texas es verdadera de acuerdo con el mapa?
- F** La mayoría de los alemanes se establecieron en la región central de Texas.
  - G** Los alemanes se establecieron en la región conocida como *Panhandle*.
  - H** Los asentamientos alemanes se ubicaron en su mayoría al oeste de Texas.
  - J** Los asentamientos alemanes empezaron en Nacogdoches.

- 13** De acuerdo con los mapas, ¿a través de cual área parecen haber venido a Texas muchos de los grupos étnicos de colonos?
- A** Frontera este de Texas con Louisiana
  - B** Ríos del norte de Texas de los Estados Unidos
  - C** Río Grande o a través de los puertos del Golfo
  - D** Del oeste a través de lo que actualmente es Nuevo México

# Vegetación de Texas



**14** ¿Cómo usaron su medio ambiente las personas que vivían en la región este de Texas cerca de Nacogdoches?

- F** Usaron los bosques para obtener madera para construir casas.
- G** Usaron pieles de animales del bosque para hacer ropa.
- H** Usaron el agua de lagos y ríos para obtener alimento.
- J** Todas las anteriores



- 15** Los pobladores pensaban que los ríos de Texas les proveerían transporte. Estos pobladores tenían que hacer modificaciones a sus planes para el comercio porque —
- A** la mayoría de los ríos de Texas son muy largos para ser útiles
  - B** la mayoría de los ríos de Texas son poco profundos para barcos grandes
  - C** los ríos están muy alejados entre sí
  - D** la mayoría de los ríos corren de oeste a este en lugar de norte a sur
- 16** Al viajar de este a oeste a lo largo de Texas, ¿cuál de estas respuestas debes notar?
- F** La vegetación y el clima se vuelven más secos y más escasos.
  - G** La vegetación permanece prácticamente igual.
  - H** La vegetación se hace más densa y alta.
  - J** La vegetación empieza a incluir rocas y peñascos.