

CISD Grado 4 Estudios Sociales Unidad 09

Some questions (c) 2013 by TEKS Resource System.

1 ¿Cuál de los siguientes ranchos se convirtió en el rancho ganadero más grande de Texas?

- A** Rancho Chisolm
- B** Rancho Loving
- C** Rancho King
- D** Rancho Glidden

2

- Después de la Guerra Civil, me uní a un grupo que trató de juntar el ganado que había estado libre a través del estado durante la guerra.
- Recuperé la mayor parte de mi ganado, pero necesitaba llevar a la manada hacia el Norte donde pagaban más dólares por la carne de res.
- Con mi socio Oliver Loving, abrí una ruta en el oeste a través de Texas y hasta Colorado.
- La ruta se hizo famosa.

¿Quién soy?

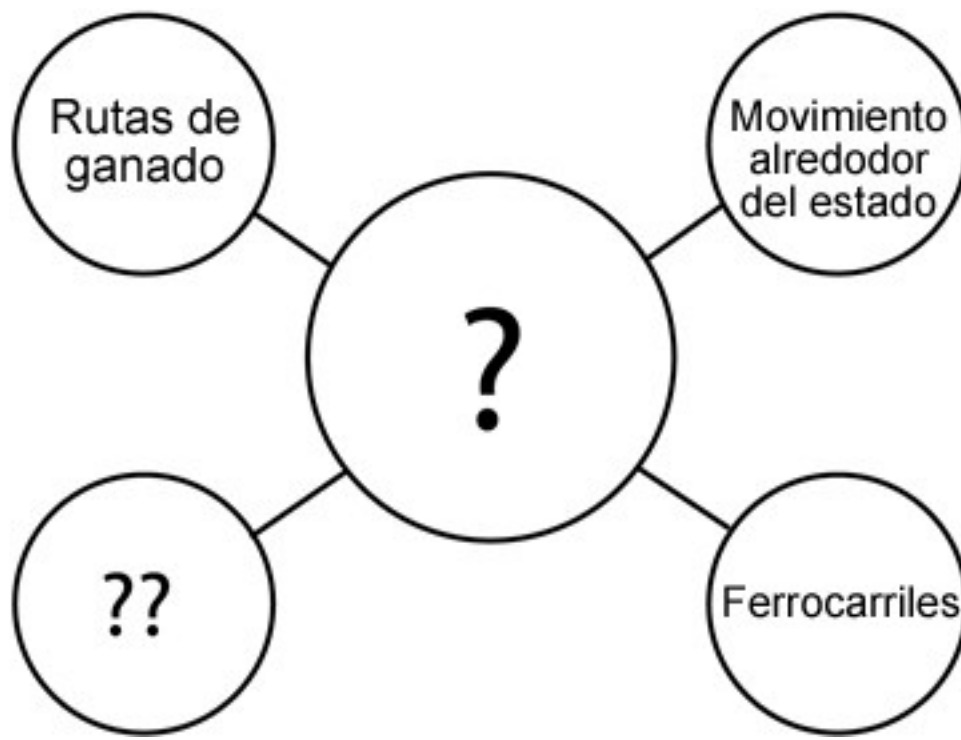
- F** Richard King
- G** Charles Goodnight
- H** Bose Ikard
- J** Lizzie Johnson Williams

3 ¿Por qué la industria ganadera creció tanto en Texas después de la Guerra Civil?

- A** El clima y los espacios abiertos de Texas la hicieron un buen lugar para criar ganado.
- B** Había una escasez de carne de res en el Norte.
- C** Eventualmente hubo ferrocarriles que hicieron que fuera más rápido llevar el ganado al mercado.
- D** Todas las anteriores.



- 4** La foto de arriba se tomó de un arreo de ganado. ¿A qué conclusión puedes llegar acerca del viaje para llevar al ganado al mercado?
- F** Debieron haber grandes distancias entre las ciudades porque las personas tenían que llevar suministros y cocinar al aire libre.
- G** Las personas en el arreo de ganado podían llevar artículos de lujo en el viaje en sus carrromatos.
- H** Hubo unas cuantas dificultades en la ruta.
- J** Los arreadores de ganado no podían satisfacer sus necesidades básicas.



5 Escoge la mejor palabra para completar el diagrama donde se localiza el símbolo de ?:

- A** Revolución
- B** Migración
- C** Inmigración
- D** Oferta y demanda

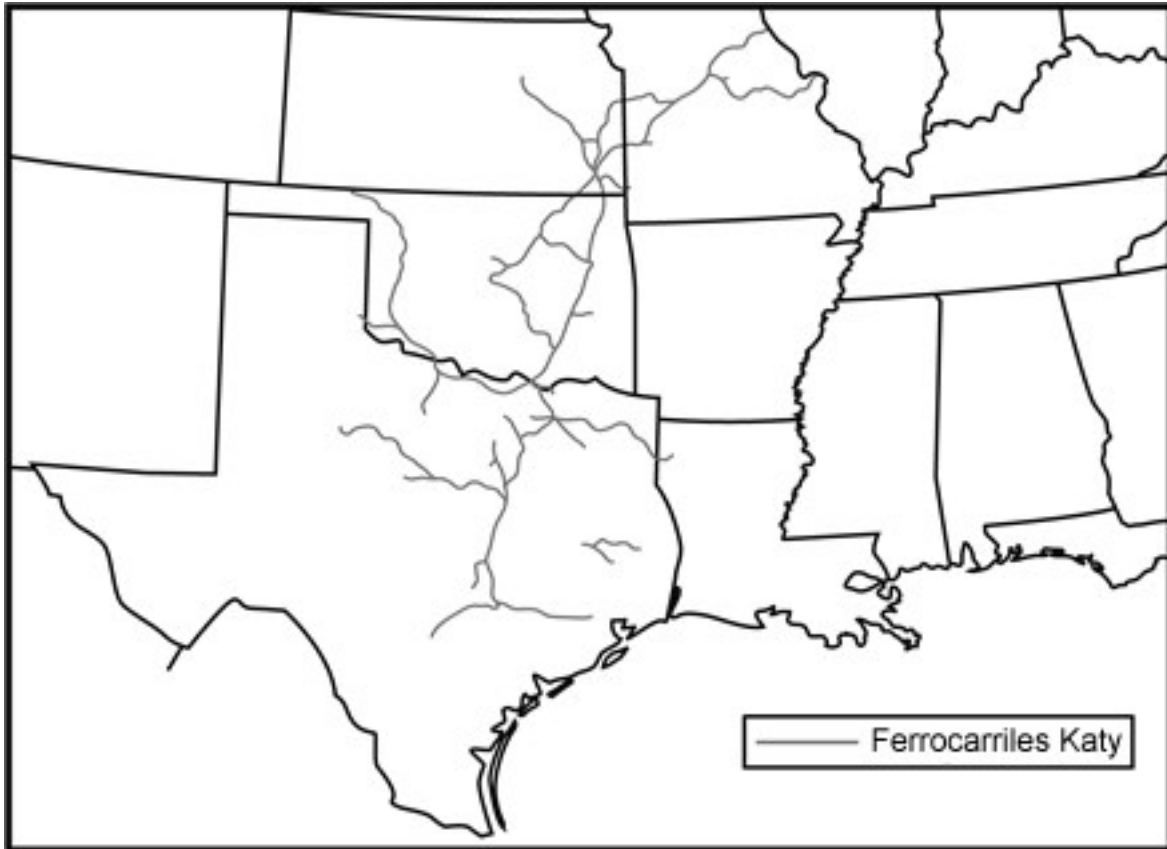
6 Escoge la frase que completa el diagrama donde se localizan los símbolos ??:

- F** Volver a empezar en nuevas ciudades y comunidades
- G** Comprar tierras adicionales para tu rancho
- H** Contratar más hombres para un arreo hacia el Norte
- J** Vender productos agrícolas a un precio más alto

7 Cómo el ferrocarril ayudó a la economía de Texas?

- A** Los bienes podían llegar a los mercados más rápidos para su venta.
- B** Las personas tenían que dejar de trabajar en las granjas.
- C** Las personas no podían pagar por los bienes que traían los ferrocarriles.
- D** No había muchos empleos.

Usa el mapa y tu conocimiento de Estudios Sociales para contestar las siguientes preguntas.



8 Usando tu conocimiento de las ubicaciones actuales de las ciudades en Texas, ¿cuáles de las siguientes ciudades crecieron a lo largo de la primera vía de ferrocarril que llegó a Texas desde el Norte?

- F** Corpus Christi
- G** Midland/Odessa
- H** Dallas/Ft. Worth
- J** El Paso

9 Transporte : ferrocarril ::
Comunicación :

- _____
- A** ruta de ganado
 - B** fuertes
 - C** telégrafo
 - D** inmigración

10 ¿Cuál de las siguientes respuestas es verdadera de acuerdo con el mapa?

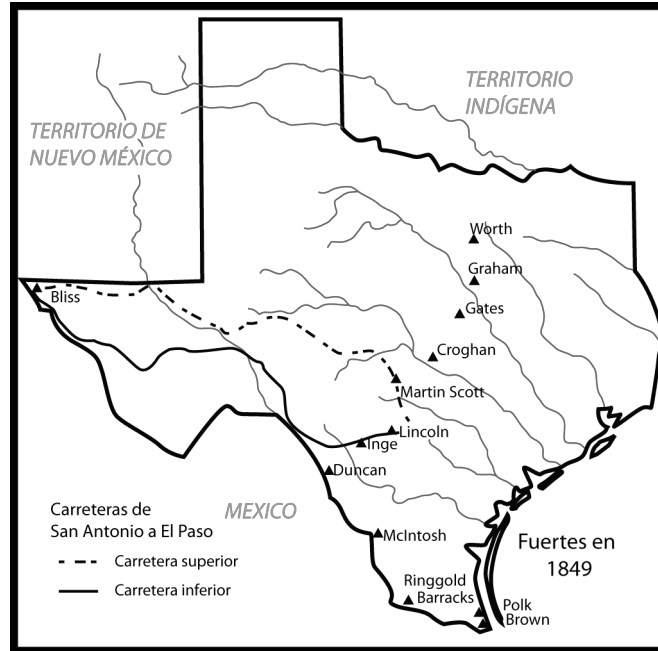
F Las ciudades desaparecieron a lo largo de las vías de ferrocarril.

G Las ciudades crecieron más o se fundaron a lo largo de las vías de ferrocarril.

H Las reservas de indígenas estaban localizadas junto a las vías de ferrocarril.

J Granjas pequeñas se localizaban a lo largo de las vías de ferrocarril.

Usa el mapa y tu conocimiento de Estudios Sociales para contestar las siguientes preguntas.



- 11** ¿Por qué los fuertes se construyeron en el lugar donde se construyeron?
- A** Estaban donde la tierra era más barata.
 - B** Estaban donde menos personas necesitaban protección.
 - C** Estaban donde los fuertes de la Guerra Civil habían estado.
 - D** Eran el trampolín para proteger a los pobladores que iban al Oeste en contra de los indígenas en territorio de búfalos

- 12** El búfalo empezó a desaparecer del área durante esta época. ¿Cuál era la causa?
- F** Los ferrocarriles llegaron y el búfalo tuvo miedo y corrió hacia otros estados.
 - G** Los indígenas mataron al búfalo para satisfacer sus necesidades básicas de alimento y vivienda.
 - H** El búfalo se contagió de un terrible virus que mató manadas enteras en Texas.
 - J** Las personas mataron al búfalo por centenares para obtener sus pieles para venderlas en las ciudades.

13 ¿Qué efecto tuvo en los indígenas norteamericanos la muerte del búfalo? Escribe una entrada de diario de 3 a 4 oraciones desde el punto de vista de un indígena norteamericano que vivía durante esa época y di cómo ha cambiado tu vida con la muerte del búfalo.

--	--

